



ایک زیادہ

ایک ہر اوطا
ناج رہا تھا وہ
ایک اور آ گیا
ہو گئے اب دو۔



دو چھوٹے طوطے
داند رہے تھے بین
ایک اور آ گیا
ہو گئے اب تین۔




تین چھوٹے طوطے
اڑنے کو تیار
ایک اور آ گیا
ہو گئے اب چار۔




چار چھوٹے طوطے
دکھارہے تھے ناچ
ایک اور آ گیا
ہو گئے اب پانچ۔



کل ملا کر کتنے ہونے؟



گائیں 3



گائے برابر ہوتی ہیں 1



گائیں اور 2



بچے 5



بچے برابر ہوتے ہیں 2



بچے اور 3



پھول

=



پھول



پھول اور



پرندے

=






پرندے









پرندے اور






کل ملا کر کتنے ہونے؟

		اور	
8	=	2	6




		اور	
<input type="text"/>	=	<input type="text"/>	<input type="text"/>




		اور	
<input type="text"/>	=	<input type="text"/>	<input type="text"/>




		اور	
<input type="text"/>	=	<input type="text"/>	<input type="text"/>



کل ملا کر کتنے ہونے؟


				
4	+	3	=	7

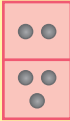
				
<input type="text"/>	+	<input type="text"/>	=	<input type="text"/>

				
<input type="text"/>	+	<input type="text"/>	=	<input type="text"/>











 $2 + 3 = 5$





$$\begin{array}{r} 2 \\ + 3 \\ \hline 5 \end{array}$$



 $4 + 2 =$ 


$5 + 1 =$ 



 $3 + 6 =$ 


$7 + 0 =$ 


$0 + 9 =$ 





$$\begin{array}{r} 4 \\ + 2 \\ \hline \end{array}$$


$$\begin{array}{r} 5 \\ + 1 \\ \hline \end{array}$$


$$\begin{array}{r} 3 \\ + 6 \\ \hline \end{array}$$


$$\begin{array}{r} 7 \\ + 0 \\ \hline \end{array}$$




$$\begin{array}{r} 0 \\ + 9 \\ \hline \end{array}$$






غبارے $5 = 2 + 3$



غبارے $3 = 0 + 3$



$\square = 2 + 0$



$\square = 0 + 4$




$\square = 0 + 5$




$\square = 4 + 3$





3


+




4

=


7



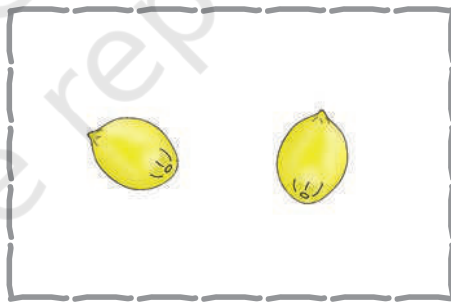
+




=




+



=



+



=



جمع کیجیے اور ملائیے



$3 + 2$		$3 + 3$
$4 + 2$		$2 + 3$
$3 + 4$		$0 + 8$
$8 + 0$		$3 + 6$
$6 + 3$		$5 + 2$
$2 + 1$		$1 + 2$
$1 + 3$		$3 + 1$





$2 + 7 = \square$

$3 + 5 = \square$

$4 + 0 = \square$

$2 + 2 = \square$



$1 + 3 = \square$

$4 + 1 = \square$

$0 + 2 = \square$

$3 + 4 = \square$



$$\begin{array}{r} 3 \\ + 6 \\ \hline \end{array}$$

$$\begin{array}{r} 5 \\ + 2 \\ \hline \end{array}$$

$$\begin{array}{r} 3 \\ + 3 \\ \hline \end{array}$$

$$\begin{array}{r} 0 \\ + 8 \\ \hline \end{array}$$

$$\begin{array}{r} 6 \\ + 3 \\ \hline \end{array}$$

$$\begin{array}{r} 1 \\ + 7 \\ \hline \end{array}$$

$$\begin{array}{r} 2 \\ + 3 \\ \hline \end{array}$$

$$\begin{array}{r} 5 \\ + 0 \\ \hline \end{array}$$

$$\begin{array}{r} 3 \\ + 4 \\ \hline \end{array}$$



خانوں میں گم شدہ اعداد لکھیے



$$\square + \square = 5$$

$$\square + \square = 6$$

$$\square + \square = 7$$

$$\square + \square = 3$$

$$\square + \square = 4$$

$$\square + \square = 9$$

$$\square + \square = 8$$

$$\square + \square = 1$$

