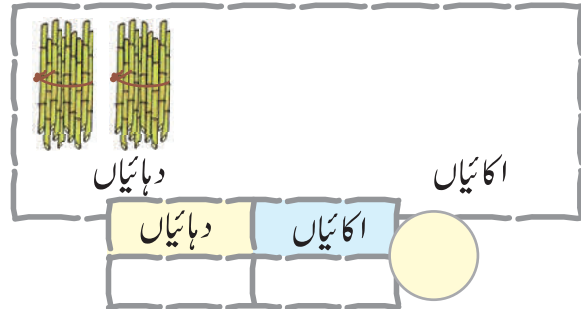
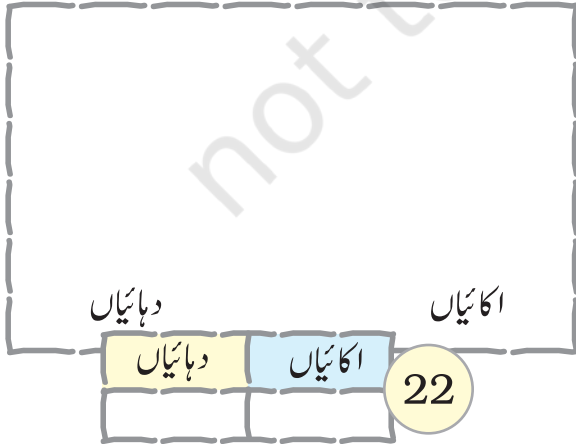
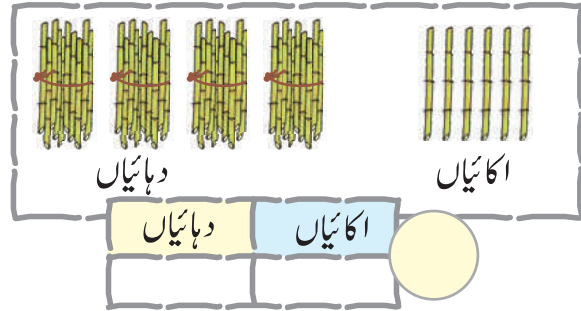
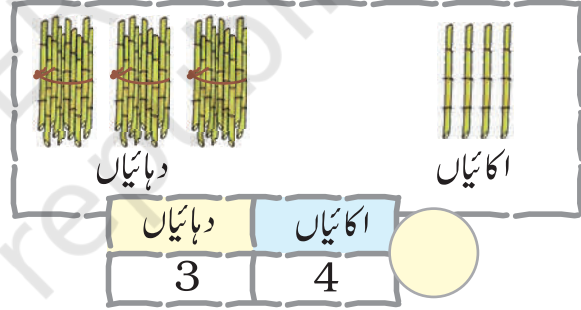
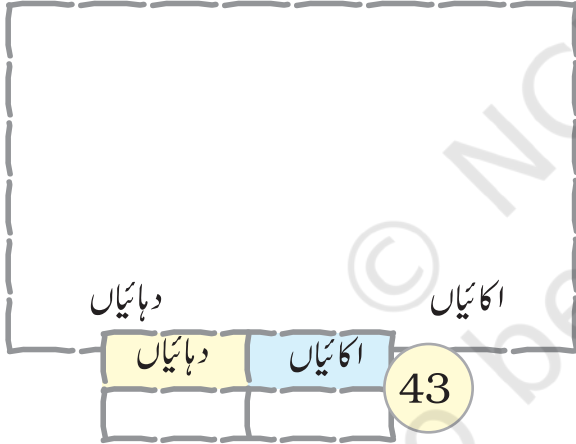


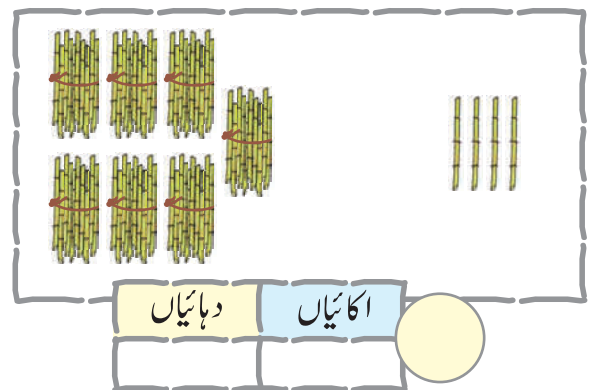
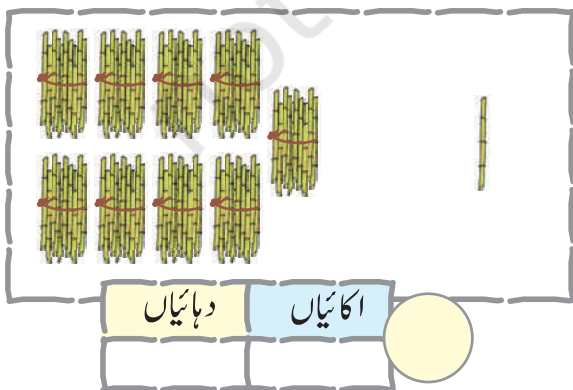
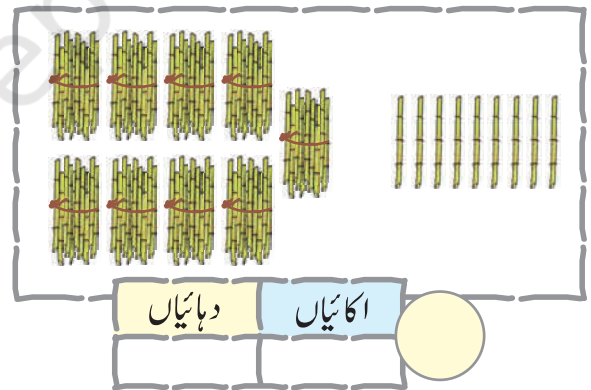
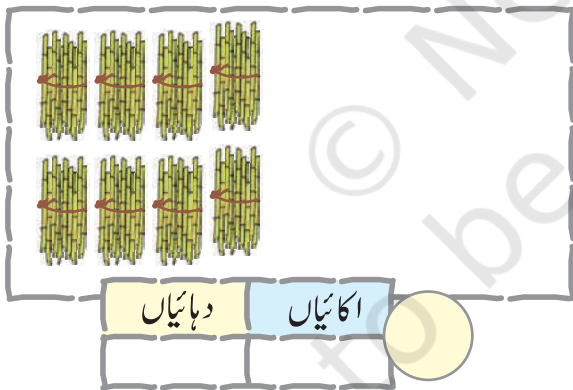
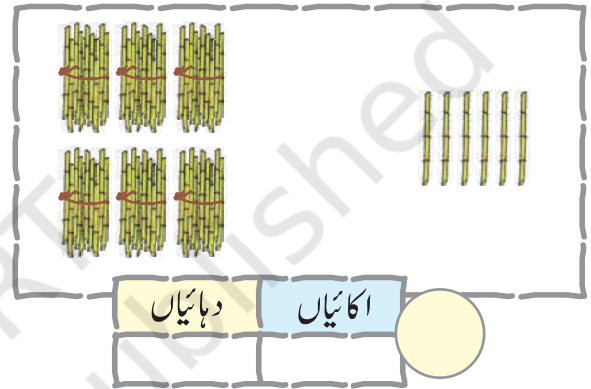
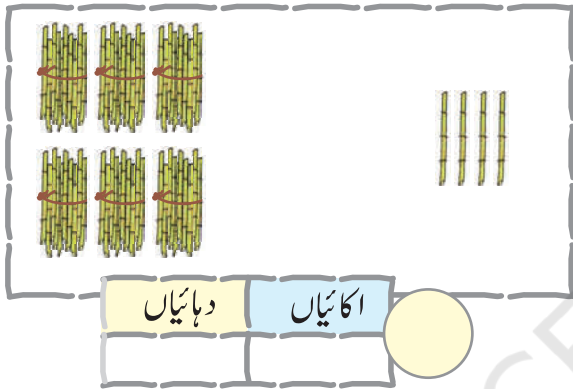
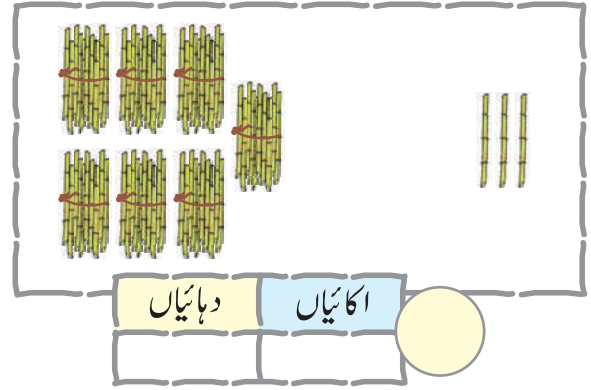
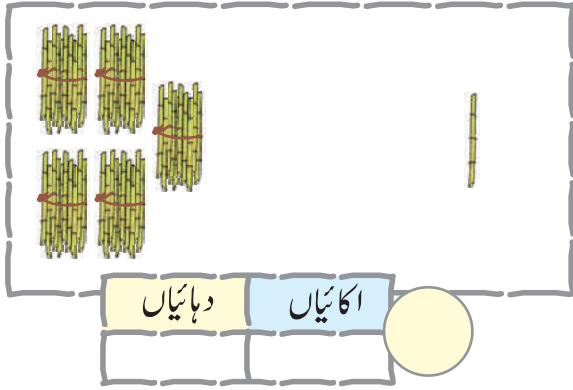
گٹھر کی تصویر بنایے اور اکائیوں کی تعداد لکھیے۔

اعداد لکھیے۔

117



دی گئی جگہوں میں اعداد لکھیے۔



51 سے 70 تک کے اعداد



خالی جگہوں کو بھریے۔

51

5 دہائیاں

1 اکائی

61

6 دہائیاں

1 اکائی

52

5 دہائیاں

2 اکائیاں

62

6 دہائیاں

2 اکائیاں

53

5 دہائیاں

3 اکائیاں

63

6 دہائیاں

3 اکائیاں

54

5 دہائیاں

4 اکائیاں

64

6 دہائیاں

4 اکائیاں

55

5 دہائیاں

5 اکائیاں

65

6 دہائیاں

5 اکائیاں

56

5 دہائیاں

6 اکائیاں

66

6 دہائیاں

6 اکائیاں

57

5 دہائیاں

7 اکائیاں

67

6 دہائیاں

7 اکائیاں

58

5 دہائیاں

8 اکائیاں

68

6 دہائیاں

8 اکائیاں

59

5 دہائیاں

9 اکائیاں

69

6 دہائیاں

9 اکائیاں

60

5 دہائیاں

1 دہائی

70

6 دہائیاں

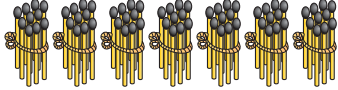

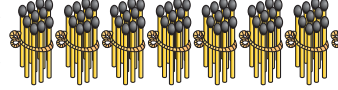

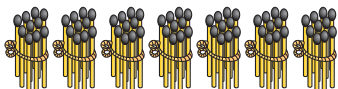

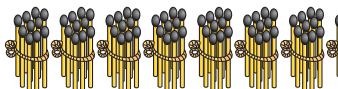

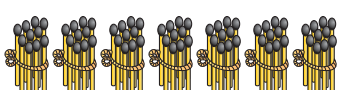



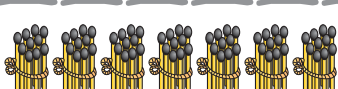



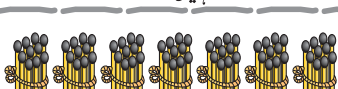























1 دہائی



71 سے 90 تک کے اعداد



خالی جگہوں کو بھریے۔

 <p>7 دہائیاں</p>	 <p>1 اکائی</p>	71	 <p>8 دہائیاں</p>	 <p>1 اکائی</p>	81
 <p>7 دہائیاں</p>	 <p>2 اکائیاں</p>		 <p>8 دہائیاں</p>	 <p>2 اکائیاں</p>	82
 <p>7 دہائیاں</p>	 <p>3 اکائیاں</p>	73	 <p>8 دہائیاں</p>	 <p>3 اکائیاں</p>	
 <p>7 دہائیاں</p>	 <p>4 اکائیاں</p>	74	 <p>8 دہائیاں</p>	 <p>4 اکائیاں</p>	
 <p>7 دہائیاں</p>	 <p>5 اکائیاں</p>		 <p>8 دہائیاں</p>	 <p>5 اکائیاں</p>	85
 <p>7 دہائیاں</p>	 <p>6 اکائیاں</p>	76	 <p>8 دہائیاں</p>	 <p>6 اکائیاں</p>	86
 <p>7 دہائیاں</p>	 <p>7 اکائیاں</p>		 <p>8 دہائیاں</p>	 <p>7 اکائیاں</p>	
 <p>7 دہائیاں</p>	 <p>8 اکائیاں</p>		 <p>8 دہائیاں</p>	 <p>8 اکائیاں</p>	88
 <p>7 دہائیاں</p>	 <p>9 اکائیاں</p>	79	 <p>8 دہائیاں</p>	 <p>9 اکائیاں</p>	89
 <p>7 دہائیاں</p>	 <p>1 دہائی</p>	80	 <p>8 دہائیاں</p>	 <p>1 دہائی</p>	90





91 سے 100 تک کے اعداد



خالی جگہوں کو بھریے۔

		91
9 دہائیاں	1 اکائی	
		92
9 دہائیاں	2 اکائیاں	
		93
9 دہائیاں	3 اکائیاں	
		94
9 دہائیاں	4 اکائیاں	
		95
9 دہائیاں	5 اکائیاں	
		96
9 دہائیاں	6 اکائیاں	
9 دہائیاں	7 اکائیاں	
9 دہائیاں	8 اکائیاں	
9 دہائیاں	9 اکائیاں	
		100
9 دہائیاں	1 دہائی	



گم شدہ اعداد لکھیے۔

51	52	53	54	55	56	57	58	59	60
	62			65				69	
		73							80
			84				88		
		93		95				99	



آئیے سانپ اور سیڑھی کا کھیل کھیلیں۔

